

۱ فروشنده ای نوعی دفتر را به قیمت ۵۰۰ تومان می خرد و ۶۰۰ تومان می فروشد. این فروشنده با فروش هر دفتر چند تومان سود می کند؟

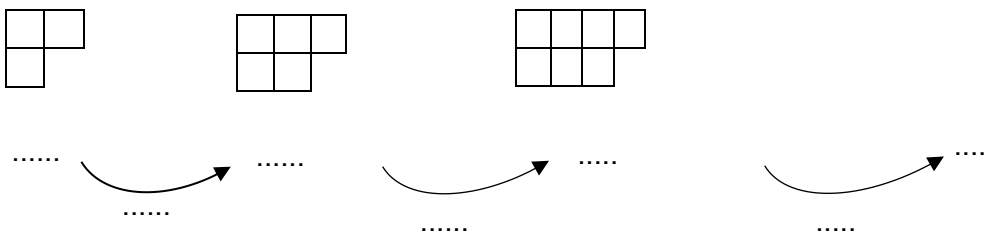
جدول را کامل کن و سپس به سوالات زیر پاسخ بده:

تعداد دفتر	۱	۲	۳	۴	۵	۶	۷	۸	۹	۱۰
سود										

الف) اگر ۷ دفتر بفروشد، چند تومان سود می کند؟

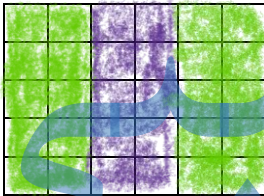
ب) چند دفتر بفروشد تا با سود آن یک دفتر بخرد؟

۲ الگوی شکل‌های زیر را ادامه بده و بنویس چه رابطه ای بین عددها و شکل‌ها وجود دارد؟



۳ با توجه به شکل جاهای خالی را کامل کن.

.....دسته یتایی می شود.....مربع




۴ ساعت ۱۵ یعنی ساعت بعداز ظهر. زاویه ای که دو عقربه ی ساعت درست می کنند چه نام دارد؟

۲۶۵۰ کیلوگرم یعنیکیلوگرم و گرم.

۳ متر سانتی متر است.

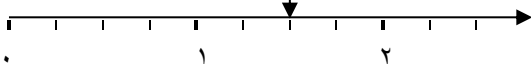
۶ هزارتایی و ۳ صدتایی و ۲ یکی یعنی این عدد را به حروف بنویس:

۵ آنا و حنا به مقدار مساوی از پدرشان پول می گیرند. آنا و حنا دادن کسرها استفاده کن و بگو چه کسی پول کمتری خرج کرده؟



۶ با توجه به مکانی که فلش نشان می دهد، جای خالی را کامل کن.

.....واحد بعد از عدد



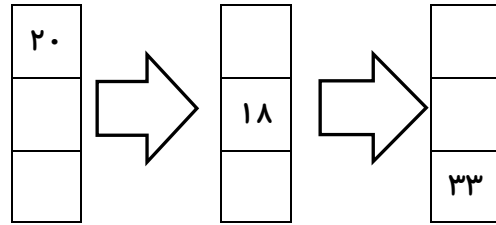
۷ برای تساوی ضرب، جمع و برای تساوی جمع، ضرب بنویس.

$$۴+۴+۴+۴+۴+۴=$$

$$۴ \times ۷ =$$




جاهای خالی را با توجه به کاری که ماشین انجام می‌دهد، کامل کن. ۸



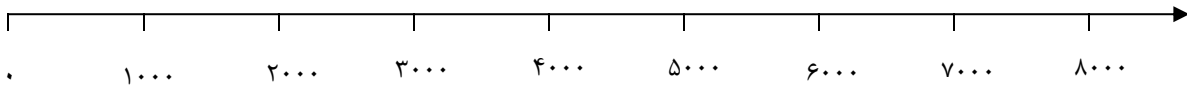
۹ ارزش ۱۵۰۰ لیره‌ی کشوری ۱۰ ریال ایران است. ۵ تومان ایران چند لیره‌ی آن کشور است؟

۱۰ دو کسر مساوی با کسر شکل زیر بنویس.

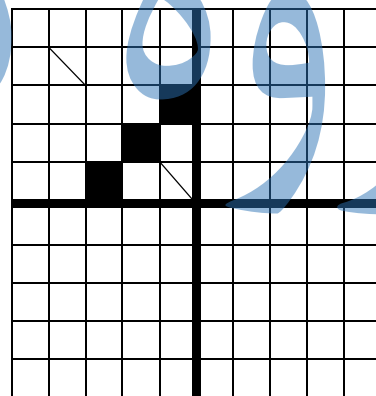
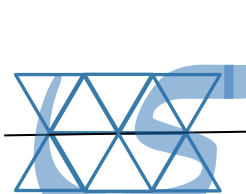


..... = =

۱۱ جای تقریبی اعداد را روی محور نشان بده. ۵۷۶۹ ، ۴۰۷۰ ، ۱۳۵۰ ، ۴۷۰۰ ، ۴۰۳



۱۲ ابتدا با توجه به خط تقارن شکلی که کامل نیست را کامل کن سپس به کمک خط تقارن، عبارت ضرب مربوط به هر شکل را بنویس.



۱۳ یک دایره به شعاع ۲ سانتیمتر رسم کن و سپس به سوالات جواب بده.

الف) جای سوزن پرگار چه نقطه‌ای را نشان می‌دهد؟

ب) قطر این دایره چند سانتیمتر است؟ آن را با رنگ قرمز نشان بده.

موفق باشی گلم 😊

سطوح مورد انتظار در یادگیری: خ (خیلی خوب و مسلط) - خ (خوب) - ق (قابل قبول) - ن (نیاز به تلاش)

	تقارن و کاربرد آن در ضرب
	شناخت دایره، شعاع و قطر
	شناخت زاویه راست
	روش نمادین در حل مسئله
	درک مفهوم سوال

	الگویابی و شمارش چندتاچندتا
	تبدیل واحد
	مقایسه کسرها
	جای اعداد و کسرها در محور
	تساوی ضرب و جمع